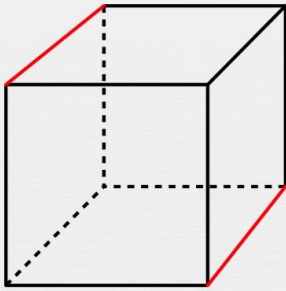




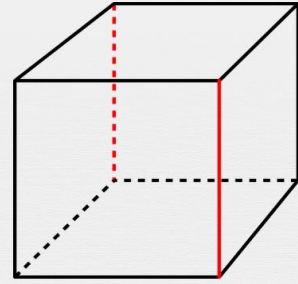
Reconnaître des droites parallèles

Les deux droites rouges sont-elles parallèles ?



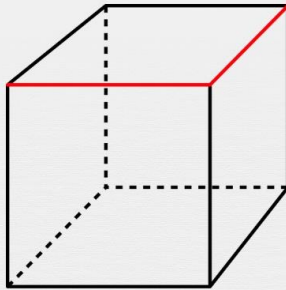
parallèles

pas parallèles



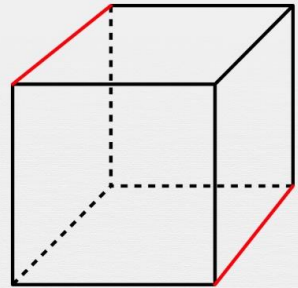
parallèles

pas parallèles



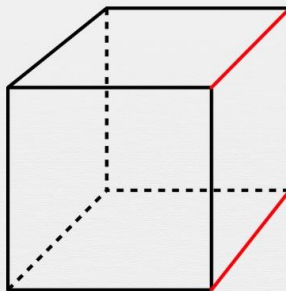
parallèles

pas parallèles



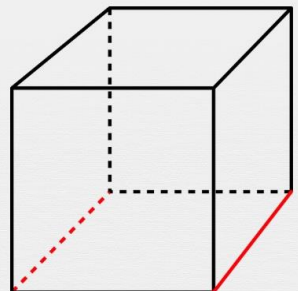
parallèles

pas parallèles



parallèles

pas parallèles



parallèles

pas parallèles