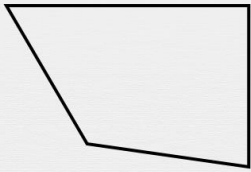




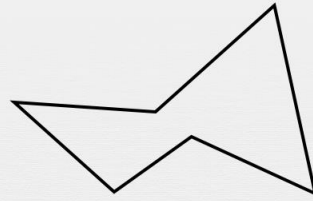
# Quadrilatères : premières bases

La figure présentée est-elle un quadrilatère ?



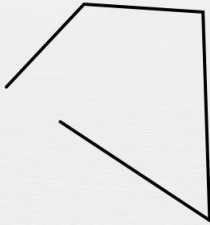
quadrilatère

pas quadrilatère



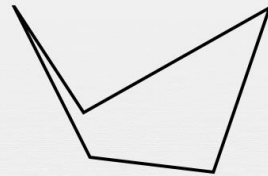
quadrilatère

pas quadrilatère



quadrilatère

pas quadrilatère



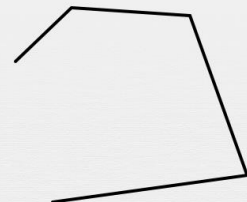
quadrilatère

pas quadrilatère



quadrilatère

pas quadrilatère



quadrilatère

pas quadrilatère