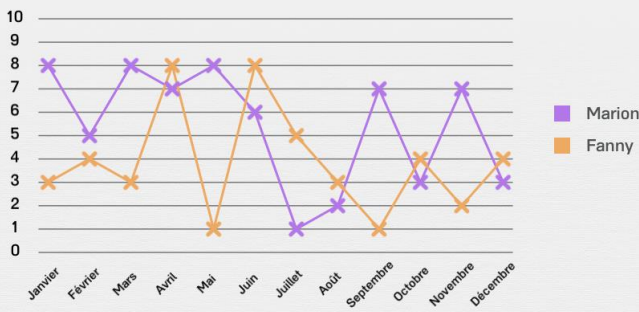




Interpréter des graphiques

Quelle affirmation est vraie ? Entoure la bonne réponse.

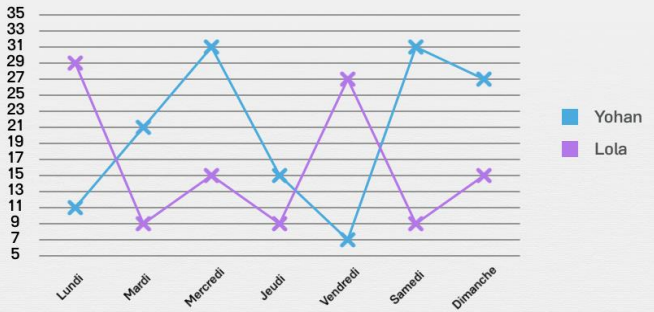
Nombre de fois où Marion et Fanny sont allées à la piscine en fonction des mois de l'année



En mai, Marion est allée moins souvent à la piscine que Fanny.

En mai, Marion est allée plus souvent à la piscine que Fanny.

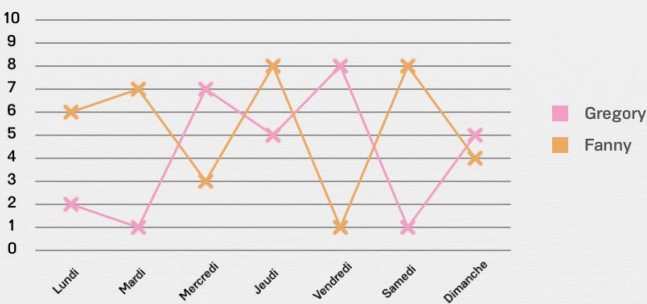
Nombre de photos prises par Yohan et Lola en fonction des jours de la semaine



Vendredi, Yohan a pris moins de photos que Lola.

Vendredi, Yohan a pris plus de photos que Lola.

Nombre de bonbons achetés par Fanny et Gregory en fonction des jours de la semaine



Vendredi, Gregory a acheté moins de bonbons que Fanny.

Vendredi, Gregory a acheté plus de bonbons que Fanny.

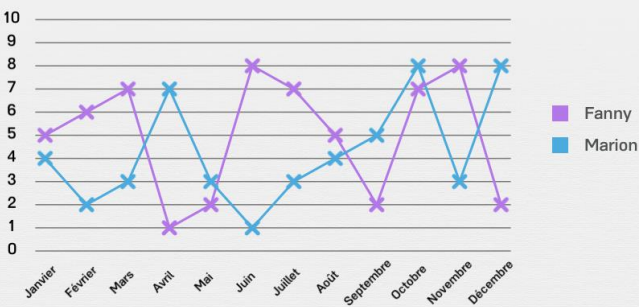
Nombre de photos prises par Yohan et Lola en fonction des jours de la semaine



Lundi, Yohan a pris moins de photos que Lola.

Lundi, Yohan a pris plus de photos que Lola.

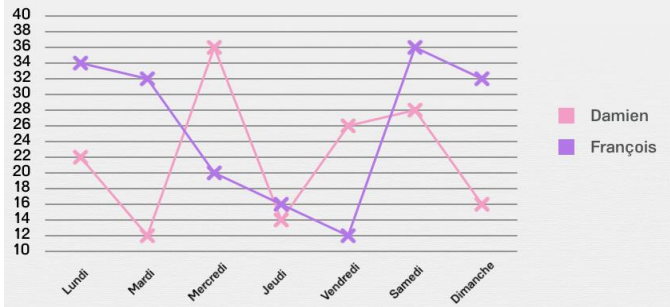
Nombre de fois où Marion et Fanny sont allées à la piscine en fonction des mois de l'année



En juin, Fanny est allée moins souvent à la piscine que Marion.

En juin, Fanny est allée plus souvent à la piscine que Marion.

Nombre d'arbres coupés par François et Damien en fonction des jours de la semaine



Samedi, Damien a coupé moins d'arbres que François.

Samedi, Damien a coupé plus d'arbres que François.