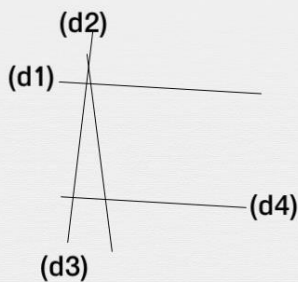




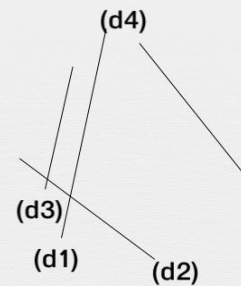
Droites sécantes et point d'intersection

Les droites sont-elles sécantes ?

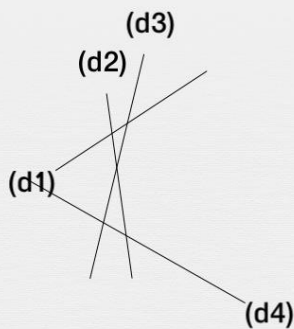
(d1) et (d4) sont-elles sécantes ?



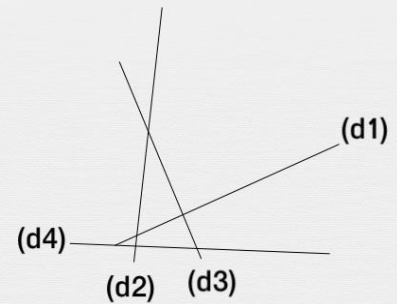
(d1) et (d4) sont-elles sécantes ?



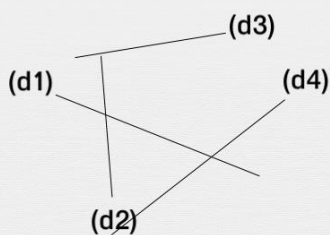
(d4) et (d1) sont-elles sécantes ?



(d1) et (d2) sont-elles sécantes ?



(d4) et (d2) sont-elles sécantes ?



(d1) et (d3) sont-elles sécantes ?

